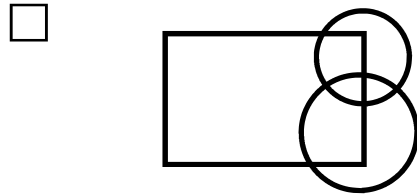
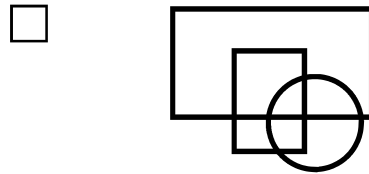
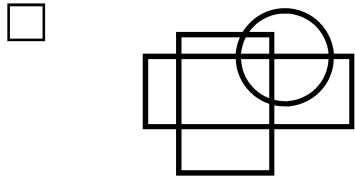
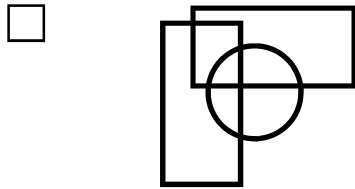


## Test C

1) Quale riga differisce dalle altre tre?

- CANNE → NO
- PIPA → PQ
- TASTO → TA
- TOCCARE → CD

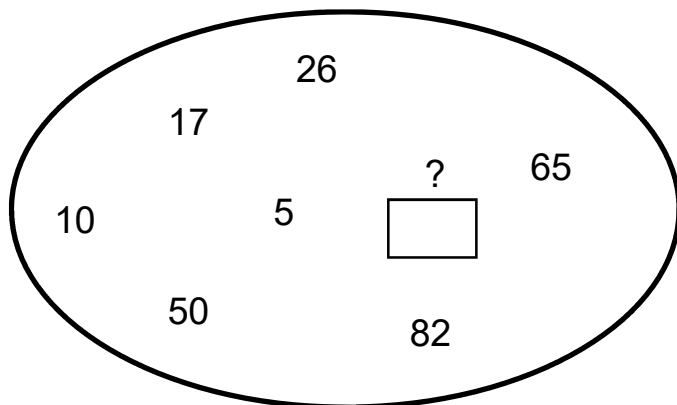
2) Quale di queste figure è un'intrusa?



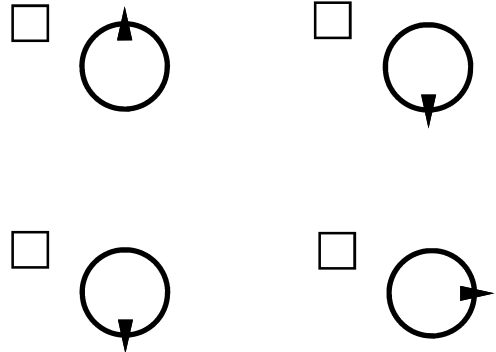
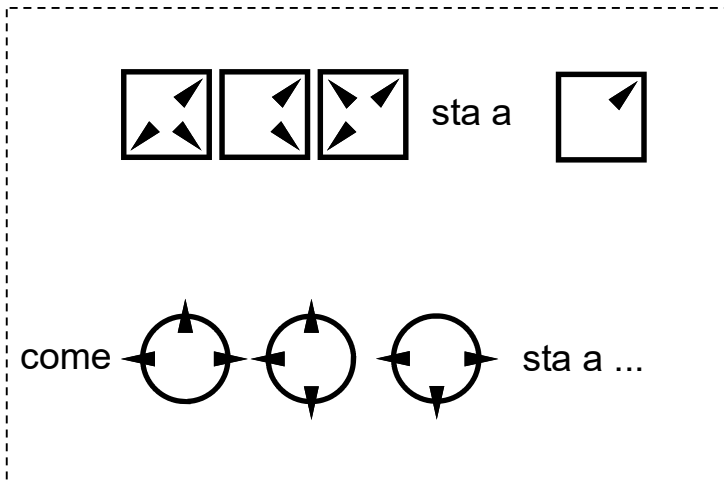
3) Manca un numero. Quale?

5   7   ?   15   23   36

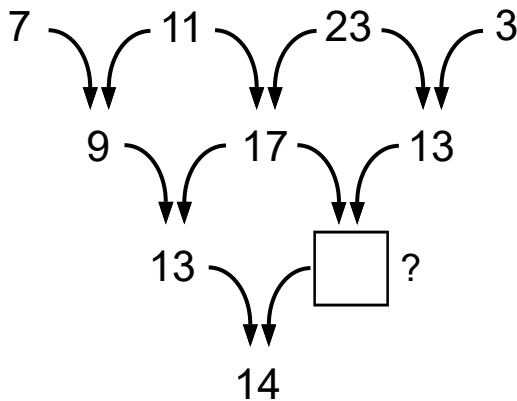
4) Che numero manca in questa ellisse?



5) Risolvere questa proporzione



6) Che numero manca?



7) In quale di queste righe si nasconde il nome di una capitale europea?

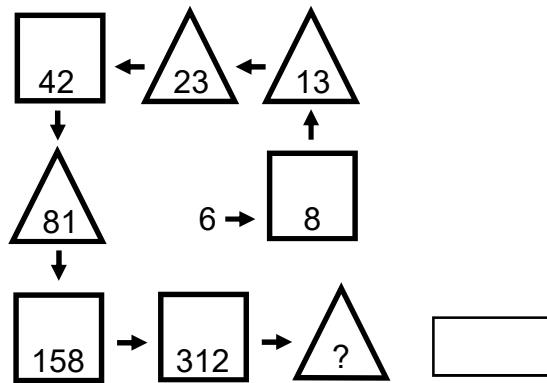
- NOSORMARI
- LADIFORIOS
- NABOLSI
- AOEMMROT

8) Due di questi cinque vocaboli hanno un significato simile. Quali?

- AUTOMATICO
- SOGNATO
- SORPRESO
- INVOLONTARIO
- IMMEDIATO

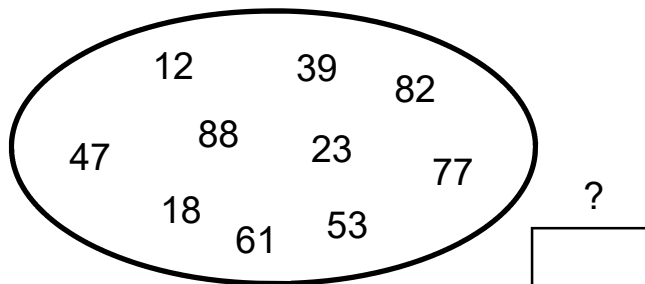
9) Che numero contiene il triangolo in basso a destra?

scrivi la risposta  
nel rettangolo



10) In numeri inscritti in questa ellisse vanno a coppie.  
Con quale numero si accoppia 18?


scrivi la risposta  
nel rettangolo



11) Quale riga differisce dalle altre tre?

- AMANTE → ESULTA
- GRUGNO → FRANCO
- TALAMO → POPOLO
- FIORAIO → MASTINO

12) La figura a sinistra è stata ribaltata e poi fatta ruotare. Qual è quella che ne risulta?



**13) Quale termine si utilizza per indicare l'insieme degli organismi viventi che interagiscono tra di loro in un determinato ambiente?**

- Ecosistema
- Habitat
- Geosito
- Biocenosi
- Nicchia ecologica

**14) Le felci sono:**

- Dicotiledoni
- Monocotiledoni
- Briofite
- Pteridofite
- Gimnosperme

**15) Grilli, cavallette e locuste sono:**

- Ortotteri
- Ditteri
- Coleotteri
- Lepidotteri
- Imenotteri

**16) Il cinabro è un:**

- Solfuro di piombo
- Disolfuro di ferro
- Ossido di piombo
- Ossido di ferro
- Solfuro di mercurio

**17) Con la sigla UNESCO si identifica:**

- Organizzazione dell'ONU per l'educazione, la scienza e la cultura
- Fondo internazionale dell'ONU per lo sviluppo agricolo
- Fondo dell'ONU per l'infanzia
- Organizzazione dell'ONU per l'alimentazione e l'agricoltura
- Programma dell'ONU per l'ambiente

**18) Quale di queste Regioni è “a statuto ordinario”?**

- Valle d'Aosta
- Piemonte
- Trentino-Alto Adige
- Friuli-Venezia Giulia
- Sardegna

**19) Per approvare un atto “a maggioranza assoluta” è necessario il voto:**

- della metà dei membri presenti di un organo
- della metà dei membri componenti di un organo
- della metà più uno dei membri componenti di un organo
- di 2/3 dei membri presenti di un organo
- di 2/3 dei membri componenti di un organo

**20) Quante sono le Commissioni permanenti del Consiglio Regionale della Toscana?**

- 3
- 5
- 7
- 9
- 11

**21) La stagionatura del formaggio avviene:**

- nella stalla
- in un apposito locale di maturazione
- in un apposito locale di trasformazione
- in un essiccatore ad umidità costante
- insieme al burro e le ricotte

**22) La pastorizia è un procedimento:**

- per riportare la pastorizia nelle aree montane abbandonate
- per separare la panna dal latte
- per la conservazione di alimenti portandoli per tempi brevi ad alte temperature
- per la stagionatura del formaggio
- per la conservazione di alimenti portandoli per tempi brevi a basse temperature

**23) Elementi caratteristici dell'azienda agricola sono:**

- l'estensione, l'altitudine, i cicli colturali
- la produzione di reddito
- l'ubicazione, la tipicità delle produzioni e il numero di dipendenti
- l'organizzazione, la produzione, lo scambio e la produzione di reddito
- l'organizzazione e la produzione di reddito

**24) I ricavi derivanti dalla vendita dei prodotti aziendali sono:**

- il tornaconto
- il beneficio fondiario
- i premi e i contributi
- la produzione lorda vendibile
- le quote

**25) L'aratro è uno strumento utilizzato per:**

- irrigare
- distribuire concimi
- imballare
- seminare e trapiantare
- lavorare il terreno

**26) Allevamento estensivo significa:**

- tenere gli animali rinchiusi in spazi limitati
- tenere gli animali rinchiusi in spazi limitati per venti ore al giorno
- tenere gli animali al pascolo con ricoveri saltuari
- lasciare gli animali liberi
- allevamento in aree marginali

**27) Le pomacee fruttificano**

- solo su gemme miste
- mai
- ogni tre anni
- solo su gemme a legno
- solo su gemme a fiore

**28) Il prodotto di una coltura foraggera:**

- viene utilizzato per l'alimentazione umana
- non viene utilizzato
- viene utilizzato principalmente per l'alimentazione del bestiame
- viene utilizzato solo per l'alimentazione dei bovini
- viene utilizzato solo per l'alimentazione degli ovini

**29) Un bosco di neoformazione è:**

- un soprassuolo forestale che ha colonizzato spontaneamente aree prima non boscate
- un bosco impiantato artificialmente
- un bosco stramaturato
- un soprassuolo forestale dove è stato effettuato un taglio di avviamento ad alto fusto
- una fustaia di transizione

**30) In Appennino la fascia altimetrica ottimale per la faggeta è:**

- dal livello del mare a 100 m di altitudine
- da 900 a 1000 m di altitudine
- al di sopra dei 1700 m di altitudine
- da 500 a 600 m di altitudine
- la faggeta è un bosco azonale e non ha una fascia altimetrica ottimale

**31) Il Sistema Informativo Territoriale si può abbreviare in:**

- S.I.
- G.I.S.
- T.I.S.
- Glo-System
- SistInformTerr

**32) Gli elaborati grafici di un progetto di edificio rurale sono costituiti almeno da:**

- planimetria del contesto, piante, prospetti e sezioni
- planimetria e relazione tecnica descrittiva
- planimetria, relazione tecnica descrittiva e relazione geologica
- sezione delle pendenze e stabilità
- planimetrie, relazione geologica e documentazione fotografica

**33) Che cos'è la scala di riduzione in cartografia?**

- È la somma tra una lunghezza misurata sulla carta e la corrispondente lunghezza nella realtà
- È la differenza tra una lunghezza misurata sulla carta e la corrispondente lunghezza nella realtà
- È il prodotto tra una lunghezza misurata sulla carta e la corrispondente lunghezza nella realtà
- È il rapporto tra una lunghezza misurata sulla carta e la corrispondente lunghezza nella realtà
- È il logaritmo del rapporto tra una lunghezza misurata sulla carta e la corrispondente lunghezza nella realtà

**34) Le caratteristiche che deve avere un'azienda per essere considerata in zona Svantaggiata, sono:**

- tutta la superficie agricola utilizzata deve ricadere in zona svantaggiata
- il bilancio aziendale deve essere negativo
- deve avere almeno 1/3 della superficie agricola utilizzata in zona montuosa
- il centro aziendale deve essere distante almeno 100 Km dal primo centro abitato
- il centro aziendale e almeno il 50% della superficie agricola utilizzata deve ricadere in zona svantaggiata

**35) I Piani di gestione dei patrimoni silvo-pastorali degli enti pubblici devono essere riferiti ad un periodo minimo di:**

- 1 anno
- 4 anni
- 5 anni
- 10 anni
- 20 anni

**36) Qual è il materiale più igienico sul quale preparare gli alimenti?**

- Il legno
- L'acciaio inox
- Il marmo
- Il teflon
- Il laminato

**37) Quale dei seguenti non è un organo del Parco?**

- Il Collegio dei revisori dei conti
- Il Consiglio direttivo
- Il Comitato scientifico
- La Comunità del Parco
- Il Presidente



**38) Quale delle seguenti frasi è vera, secondo la normativa regionale sui parchi?**

- Il Regolamento definisce l'articolazione in zone del territorio del Parco
- Lo Statuto del Parco stabilisce specifici vincoli e salvaguardie dell'area protetta
- Il Piano integrato per il Parco detta specifiche direttive per le aree contigue
- I Piani di gestione del Parco stabiliscono la perimetrazione dell'area protetta
- Il nulla osta del Parco autorizza le attività sportive, ricreative ed educative

**39) Quale dei seguenti Siti della Rete Natura 2000 si trova nelle Alpi Apuane?**

- Monte Castagnolo
- Pania di Corfino
- Bosco ai Frati
- Alpe della Luna
- Monte Morello

**40) Quale dei seguenti alberi non vive spontaneamente nel Parco delle Alpi Apuane?**

- Abete bianco
- Pino mugo
- Ciliegio canino
- Maggiociondolo alpino
- Ontano bianco

**41) Quale dei seguenti forme e depositi si trova nel Parco delle Alpi Apuane?**

- Barcana
- Inselberg
- Roccia montonata
- Terrazzo eustatico
- Caldera

**42) L'elemento finale del procedimento amministrativo è:**

- l'ordinanza
- la sentenza
- il provvedimento
- la circolare
- la legge

**43) Con Account si indica:**

- il campo per inviare in copia un messaggio a più destinatari
- il programma per la gestione della posta elettronica
- il profilo che corrisponde ad una casella postale elettronica
- il file allegato ad un messaggio di posta elettronica
- la cartella contenente gli indirizzi di posta elettronica

**44) La combinazione rapida da tastiera per il comando “copia” è:**

- CTRL + x
- CTRL + c
- CTRL + v
- CTRL + b
- CTRL + ALT + CANC

**45) In un foglio elettronico di calcolo, si ha nella cella A1 il valore 4, nella cella A2 il valore 3, nella cella A3 il valore 2. Se nella cella A4 si inserisce la formula “=A2\*3/A1\*A3”, quale risultato si ottiene?**

- 3,5
- 4,5
- 5,5
- 6,5
- 8,5

**46) In un programma di videoscrittura, le clipart:**

- consentono il collegamento con i fogli di calcolo
- permettono di illustrare il documento
- creano collegamenti ipertestuali
- inseriscono dei segnalibri all'interno del documento;
- gestiscono la revisione dei testi

**47) Could you ..... something for me?**

*completa la frase*

- done
- do
- to do
- doing
- does

48) Your mobile is ..... the table?

- over
- at
- on
- in
- to

49) Qual è la traduzione di prateria in inglese?

- Beech forest
- Chestnut wood
- Grassland
- Oak wood
- Hornbeam forest

50) Qual è la traduzione di prugna in inglese?

- Apple
- Blueberry
- Walnut
- Grape
- Plum

**Spazio riservato alla correzione e misurazione del test**

n.	<input type="text"/>	quesiti con risposta/e esatta/e	x	+ 3	=	<input type="text"/>	punti
n.	<input type="text"/>	quesiti con risposta/e sbagliata/e	x	- 1	=	<input type="text"/>	punti
n.	<input type="text"/>	quesiti senza risposta	x	0	=	<input type="text"/>	punti
n.	<input type="text"/>	quesiti con risposte soprannumerarie	x	- 1	=	<input type="text"/>	punti
<hr/>							
<b>tot.</b>	<b>50</b>	<b>quesiti</b>				<b>tot.</b>	<input type="text"/> <b>punti</b>

## **Prova preselettiva del Concorso pubblico per titoli ed esami per la copertura di n. 1 posto di Istruttore tecnico amministrativo, perito agrario o agrotecnico, categoria giuridica C**

**numero quesiti:** = 50

**durata della prova:** = 90 minuti (per tutti)

### **misurazione e valutazione della prova:**

- per ogni quesito con risposta/e esatta/e = + 3 punti
- per ogni quesito con risposta/e sbagliata/e = - 1 punti
- per ogni quesito senza risposta = 0 punti

- ⇒ Sarà considerato come “risposta sbagliata” ogni quesito con risposte in numero superiore a quanto richiesto dal test;
- ⇒ Nel caso in cui, per un determinato quesito, non sia indicato il numero di risposte da fornire, queste sono sempre uguali ad una sola;
- ⇒ È possibile correggere le risposte sull’elaborato di esame unicamente nel modo che segue: cancellazione della risposta ritenuta errata indicando in stampatello, a fianco, “NO” – indicazione della risposta ritenuta corretta indicando in stampatello, a fianco, “SI”;

N.B. = Nel caso di eventuali errori, non solo materiali, nella stesura e/o nella stampa del test, verranno presi in considerazione soltanto i quesiti formulati in maniera corretta.

### **Norme principali sullo svolgimento del Concorso**

Un candidato – indicato dagli altri concorrenti – procede alla scelta di una delle buste chiuse contenenti gli argomenti della prova di esame.

Durante lo svolgimento delle prove, i candidati non possono comunicare fra di loro, né scambiarsi pubblicazioni, appunti o quant’altro.

Il Bando non ha consentito di utilizzare testi per questa prova.

È vietato pure l’uso di cellulare, smartphone, tablet, computer, ecc., con accesso ad internet.

È escluso dal Concorso, il concorrente o i concorrenti che contravviene a quanto scritto sopra o che abbia copiato in tutto o in parte lo svolgimento dell’elaborato di esame.

A pena di nullità, gli elaborati dovranno essere privi di qualsiasi indicazione che possa far risalire al nome dell’estensore e comunque che possa essere individuata come segno di riconoscimento. La stessa cosa vale per la busta che li contiene.

A pena di nullità, gli elaborati dovranno essere scritti su carta portante il timbro d’ufficio e la firma di un membro della Commissione.

La consegna degli elaborati avviene soltanto al termine del tempo di durata della prova, per cui nessun candidato può alzarsi dal proprio posto e lasciare l’aula di esame prima di tale termine.