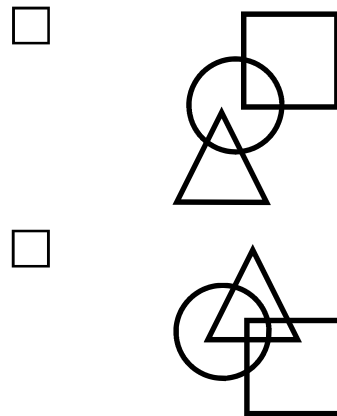
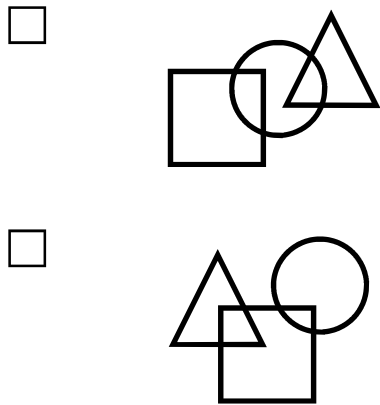


Test A

1) Quale riga differisce dalle altre tre?

- DAMASCO → EP
- FURETTO → GP
- TENEREZZA → UB
- SORRIDERE → FA

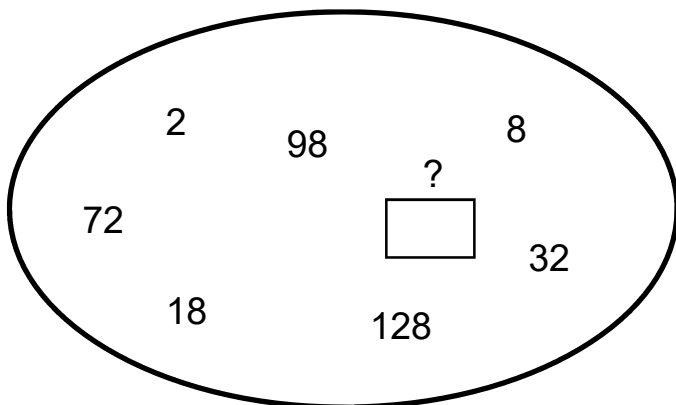
2) Quale di queste figure è un'intrusa?



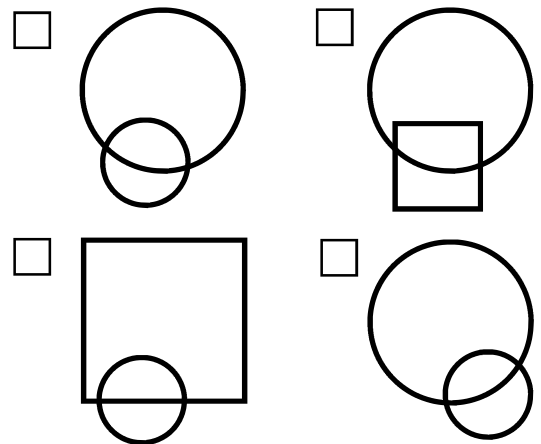
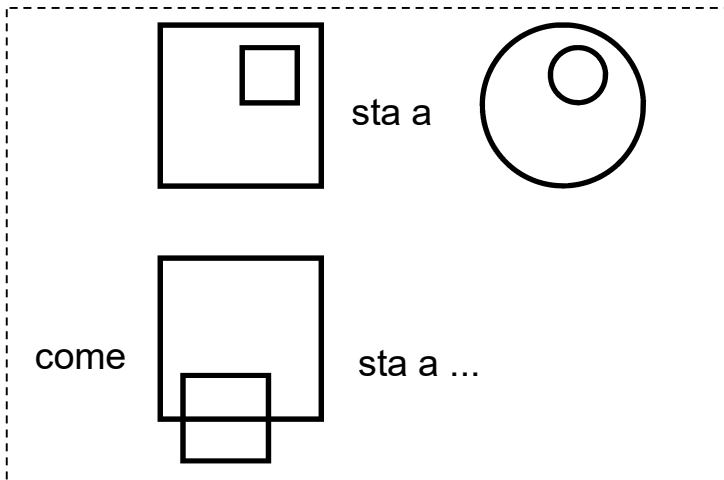
3) Manca un numero. Quale?

E 4 C 2 H 7 A G 6

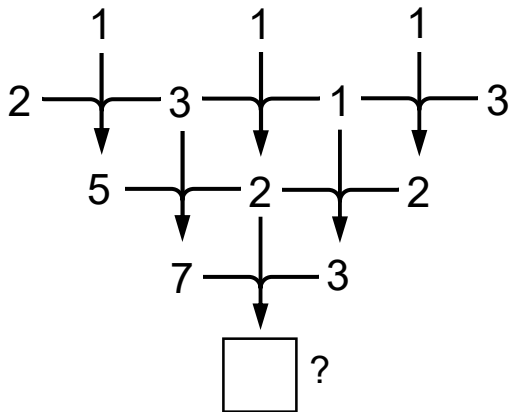
4) Che numero manca in questa ellisse?



5) Risolvere questa proporzione



6) Che numero va scritto nel quadrato in basso?



7) In quale di queste righe si nasconde il nome di una nazione europea?

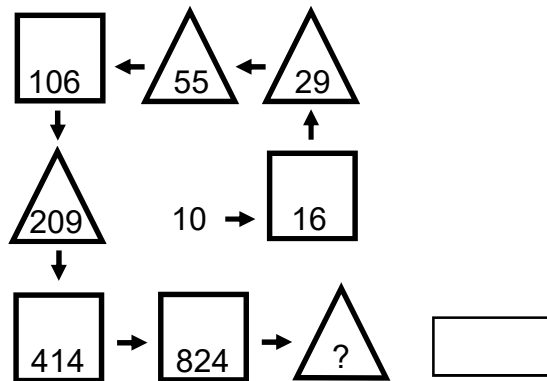
- UOTSERIBO
- RMEUSLOAN
- DNAMLARCA
- ONVGRIEA

8) Due di questi cinque vocaboli hanno un significato simile. Quali?

- QUIPROQUO
- INTERVENTO
- RISPOSTA
- MALINTESO
- DOMANDA

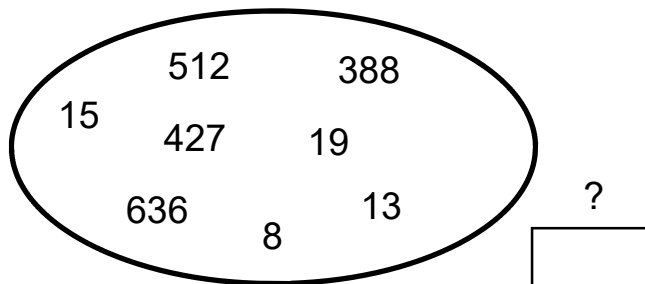
9) Che numero contiene il triangolo in basso a destra?

scrivi la risposta
nel rettangolo



10) In numeri inscritti in questa ellisse vanno a coppie.
Con quale numero si accoppia 388?

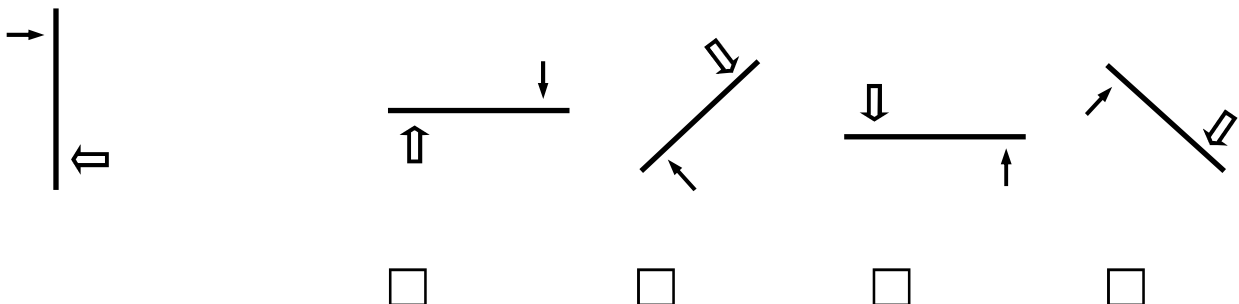
scrivi la risposta
nel rettangolo



11) Quale riga differisce dalle altre tre?

- MIRACOLO → GUARDA
- VERANDA → AUTENTICA
- ROVINARE → STERPI
- INTERDIRE → DETTO

12) La figura a sinistra è stata ribaltata e poi fatta ruotare. Qual è quella che ne risulta?



13) Quale termine si utilizza per indicare il luogo le cui caratteristiche fisiche e ambientali permettono ad una determinata specie di vivere e riprodursi?

- Ecosistema
- Habitat
- Geosito
- Biocenosi
- Nicchia ecologica

14) Le palme sono:

- Dicotiledoni
- Monocotiledoni
- Briofite
- Pteridofite
- Gimnosperme

15) Tafani, mosche e zanzare sono:

- Ortotteri
- Ditteri
- Coleotteri
- Lepidotteri
- Imenotteri

16) La galena è un:

- Solfuro di piombo
- Disolfuro di ferro
- Ossido di piombo
- Ossido di ferro
- Solfuro di mercurio

17) Con la sigla UNEP si identifica:

- Organizzazione dell'ONU per l'educazione, la scienza e la cultura
- Fondo internazionale dell'ONU per lo sviluppo agricolo
- Fondo dell'ONU per l'infanzia
- Organizzazione dell'ONU per l'alimentazione e l'agricoltura
- Programma dell'ONU per l'ambiente

18) Quale di queste Regioni non è “a statuto speciale”?

- Sicilia
- Sardegna
- Friuli Venezia Giulia
- Veneto
- Trentino-Alto Adige

19) Le leggi della Repubblica Italiano entrano in vigore di norma:

- Entro due mesi dalla loro pubblicazione
- Lo stesso giorno della loro pubblicazione
- Il 15° giorno successivo alla loro pubblicazione
- Lo stesso giorno d’approvazione da parte del Parlamento
- Nel giorno in cui sono firmate dal Presidente della Repubblica

20) Quanti sono i consiglieri regionali della Toscana?

- 36
- 38
- 41
- 45
- 51

21) La filiera vitivinicola è costituita dai seguenti processi:

- raccolta delle uve, produzione del vino, conservazione e imbottigliamento del vino
- produzione delle uve e conservazione del vino
- imbottigliamento e vendita
- produzione delle uve, produzione del vino, conservazione e imbottigliamento del vino
- potatura, raccolta e trasporto in cantina

22) Le castagne utilizzate per la produzione di farina dolce devono:

- essere appena raccolte per evitare che si deteriorino
- essere essiccate e private della buccia e della pellicola di cui è avvolto il seme
- di pezzatura grande e precedentemente trattate con sostanze antimicotiche
- essere essiccate ma non private della buccia affinché non perdano le loro proprietà
- non si ottiene farina dalle castagne

23) Le attività dell'impresa agraria sono quelle direttamente connesse:

- soltanto alla vendita dei prodotti del proprio fondo, compresi quelli trasformati
- alla coltivazione del fondo, selvicoltura, allevamento del bestiame e attività connesse
- alla coltivazione del fondo e all'allevamento del bestiame
- alla coltivazione del fondo ad eccezione della selvicoltura
- alle imprese di agenzia, di mediazione, di deposito, di commissione

24) Il denaro necessario per far fronte alle spese correnti, che bisogna anticipare prima di ottenere i primi ricavi, è:

- il debito aziendale
- il capitale di scorta
- il capitale di esercizio
- gli interessi passivi
- il capitale di anticipazione

25) In un terreno argilloso il contenuto di argilla è mediamente:

- inferiore al 40%
- inferiore al 20%
- superiore al 40%
- uguale al 30%
- uguale all'1%

26) La pecora di razza "massese" si caratterizza per:

- vello bianco candido e coda nera
- maschi e femmine privi di corna
- maschio nero privo di corna, femmina grigia con corna
- maschio con vello maculato e corna, femmina con testa bianca e vello nero
- vello nero e presenza di corna sia nei maschi che nelle femmine

27) La moltiplicazione per talea si effettua:

- interrando il frutto
- flettendo un ramo della pianta madre fino al suolo e interrandone una sezione
- avvolgendo con un involucro di plastica un ramo della pianta madre
- tagliando un ramo della pianta e mettendolo a radicare nel terreno o in acqua
- mettendo a radicare una gemma

28) La peronospora della patata è:

- un insetto
- un fungo
- un batterio
- un nematode
- una virosi

29) Le fondamentali forme di governo del bosco sono:

- novelleto, perticaia e bosco maturo
- fustaia e ceduo
- ceduo semplice, ceduo matricinato e fustaia coetanea
- bosco coetaneo e bosco disetaneo
- bosco naturale e bosco coltivato

30) Il castagneto da frutto è:

- un soprassuolo formato da giovani polloni di castagno
- un bosco misto a prevalenza di castagno
- un bosco biplano con il piano dominante costituito da specie eliofile
- un bosco costituito per la quasi totalità da piante di castagno di norma innestate
- un'area potenzialmente adatta all'impianto di un castagneto

31) Possono essere oggetto di stima:

- solo i beni mobili
- solo i beni immobili
- solo i fabbricati
- solo il bestiame
- tutti i beni economici

32) Gli elementi principali di un solaio ligneo orizzontale sono:

- tavolato
- carpenteria metallica e tavole lignee
- capriate e travicelli
- solo tavolame di castagno
- tavolato, travicelli e travi

33) Che cos'è un'isoipsa:

- una linea che unisce punti posti sullo stesso parallelo
- una linea che unisce punti posti sullo stesso meridiano
- una linea che unisce punti aventi uguale altezza sul livello del mare
- una linea che unisce punti aventi la stessa declinazione magnetica
- una linea che unisce punti posti alla stessa distanza da un punto trigonometrico

34) Per conseguire la qualifica di IAP (Imprenditore Agricolo Professionale) è necessario sostenere un esame?

- No
- È facoltativo
- Sì
- Solo se non si è maggiorenni
- Solo se non si è in possesso della licenza media

35) Per esercitare l'attività agrituristica è necessario che:

- l'azienda sia situata in zone ad alto valore paesaggistico
- l'imprenditore utilizzi prodotti tipici del luogo
- l'azienda abbia a disposizione almeno 40 posti letto
- l'azienda abbia l'Unità Tecnica Economica in un'Area Protetta
- l'imprenditore agricolo presenti una Denuncia Inizio Attività

36) Qual è la temperatura ideale di conservazione del latte pastorizzato?

- $> 0^{\circ} \text{ C}$
- $+ 4^{\circ} \text{ C}$
- $- 2^{\circ} \text{ C}$
- $- 18^{\circ} \text{ C}$
- $+ 10^{\circ} \text{ C}$

37) Quale delle seguenti attività e opere non è vietata nei Parchi, salvo deroghe?

- La modificazione del regime delle acque
- La circolazione del pubblico con mezzi di trasporto
- L'uso di fuochi all'aperto
- L'apertura e l'esercizio di cave, di miniere e di discariche
- L'introduzione, da parte di privati, di armi e di esplosivi

38) Quale delle seguenti frasi è vera, secondo la normativa regionale sui parchi?

- La Comunità del Parco adotta lo Statuto del Parco
- Il Presidente del Parco adotta il Bilancio di esercizio
- Il Consiglio direttivo approva il Piano integrato per il Parco
- La Giunta regionale nomina il Direttore del Parco
- Il Consiglio regionale approva il Regolamento del Parco

39) Quale dei seguenti Siti della Rete Natura 2000 non si trova nelle Alpi Apuane?

- Monte Castagnolo
- Pania di Corfino
- Valle del Giardino
- Monte Sagro
- Monte Sumbra

40) Quale delle seguenti specie animali vive nel Parco delle Alpi Apuane?

- Camoscio
- Albanella pallida
- Culbianco
- Vipera cornuta
- Cervone

41) Quale dei seguenti depositi e forme glaciali non si trova nel Parco delle Alpi Apuane?

- Morena
- Circo
- Roccia montonata
- Valle ad "U"
- Valle sospesa

42) I termini del procedimento amministrativo, attivato su iniziativa di parte, decorrono:

- dall'invio della domanda
- dal ricevimento della domanda
- dal 30° giorno successivo al ricevimento della domanda
- dalla nomina del responsabile del procedimento
- dal provvedimento amministrativo di avvio del procedimento

43) URL indica:

- una sigla utilizzata da un utente per farsi identificare da un computer
- un software per migliorare il sistema
- un sistema operativo usato nelle reti locali
- un indirizzo internet comprensibile per qualsiasi browser web
- un programma applicativo

44) La combinazione rapida da tastiera per il comando “taglia” è:

- CTRL + x
- CTRL + c
- CTRL + v
- CTRL + b
- CTRL + ALT + CANC

45) In un foglio elettronico di calcolo, si ha nella cella A1 il valore 2, nella cella A2 il valore 4, nella cella A3 il valore 3. Se nella cella A4 si inserisce la formula “=A2*3/A1*A3”, quale risultato si ottiene?

- 14
- 16
- 18
- 20
- 22

46) In un programma di videoscrittura, l’interlinea è:

- un parametro che spezza la linea in due per andare a capo quando è troppo lunga
- un comando per suddividere due parametri
- la spaziatura tra un paragrafo e l’altro
- la spaziatura tra una riga e l’altra
- l’interruzione tra una pagina e l’altra

47) Elaine to the cinema on Sundays

completa la frase

- is going
- goes
- go
- went
- has gone

48) Have you ever been in London?

- Not yet
- Still not
- Already not
- Until now no
- Not

49) Qual è la traduzione di castagneto in inglese?

- Beech forest
- Chestnut wood
- Grassland
- Oak wood
- Hornbeam forest

50) Qual è la traduzione di uva in inglese?

- Apple
- Blueberry
- Walnut
- Grape
- Plum

Spazio riservato alla correzione e misurazione del test

n.	<input type="text"/>	quesiti con risposta/e esatta/e	x	+ 3	=	<input type="text"/>	punti
n.	<input type="text"/>	quesiti con risposta/e sbagliata/e	x	- 1	=	<input type="text"/>	punti
n.	<input type="text"/>	quesiti senza risposta	x	0	=	<input type="text"/>	punti
n.	<input type="text"/>	quesiti con risposte soprannumerarie	x	- 1	=	<input type="text"/>	punti
<hr/>							
tot.	50	quesiti				tot.	<input type="text"/> punti

Prova preselettiva del Concorso pubblico per titoli ed esami per la copertura di n. 1 posto di Istruttore tecnico amministrativo, perito agrario o agrotecnico, categoria giuridica C

numero quesiti: = 50

durata della prova: = 90 minuti (per tutti)

misurazione e valutazione della prova:

- per ogni quesito con risposta/e esatta/e = + 3 punti
- per ogni quesito con risposta/e sbagliata/e = - 1 punti
- per ogni quesito senza risposta = 0 punti

- ⇒ Sarà considerato come “risposta sbagliata” ogni quesito con risposte in numero superiore a quanto richiesto dal test;
- ⇒ Nel caso in cui, per un determinato quesito, non sia indicato il numero di risposte da fornire, queste sono sempre uguali ad una sola;
- ⇒ È possibile correggere le risposte sull’elaborato di esame unicamente nel modo che segue: cancellazione della risposta ritenuta errata indicando in stampatello, a fianco, “NO” – indicazione della risposta ritenuta corretta indicando in stampatello, a fianco, “SI”;

N.B. = Nel caso di eventuali errori, non solo materiali, nella stesura e/o nella stampa del test, verranno presi in considerazione soltanto i quesiti formulati in maniera corretta.

Norme principali sullo svolgimento del Concorso

Un candidato – indicato dagli altri concorrenti – procede alla scelta di una delle buste chiuse contenenti gli argomenti della prova di esame.

Durante lo svolgimento delle prove, i candidati non possono comunicare fra di loro, né scambiarsi pubblicazioni, appunti o quant’altro.

Il Bando non ha consentito di utilizzare testi per questa prova.

È vietato pure l’uso di cellulare, smartphone, tablet, computer, ecc., con accesso ad internet.

È escluso dal Concorso, il concorrente o i concorrenti che contravviene a quanto scritto sopra o che abbia copiato in tutto o in parte lo svolgimento dell’elaborato di esame.

A pena di nullità, gli elaborati dovranno essere privi di qualsiasi indicazione che possa far risalire al nome dell’estensore e comunque che possa essere individuata come segno di riconoscimento. La stessa cosa vale per la busta che li contiene.

A pena di nullità, gli elaborati dovranno essere scritti su carta portante il timbro d’ufficio e la firma di un membro della Commissione.

La consegna degli elaborati avviene soltanto al termine del tempo di durata della prova, per cui nessun candidato può alzarsi dal proprio posto e lasciare l’aula di esame prima di tale termine.